

ANEXOS

Sesión N° 9 - Matemática


**“JUGUEMOS AL
TUMBALATAS
MATEMÁTICO”**




¿QUÉ HAREMOS HOY?

Hoy aprenderemos a sumar cantidades usando el juego del Tumbalatas y a representar los resultados en la recta numérica.


1 **Escucharemos** el desafío del día y recordaremos para qué usamos las sumas




2 **Jugaremos** al juego del tumbalatas




3 **Reconoceremos** nuestras propias estrategias para sumar cantidades.



4 **Aprenderemos** a usar la recta numérica para sumar cantidades.



5 **Conversaremos** sobre las estrategias que usamos y cuál nos ayudó más.



El tumbalatas matemático

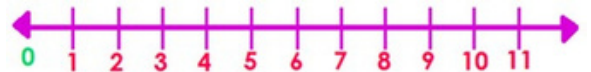
¿Qué necesitas para jugar?

- Latas con diferentes números.



- Una recta numérica en papelógrafo o pizarra.

- Plumones de colores



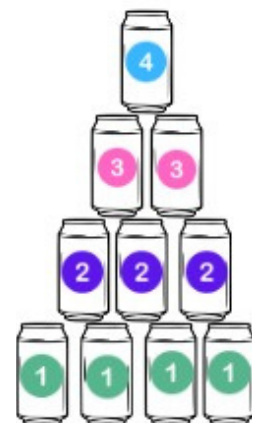
- Hojas para hacer cálculos



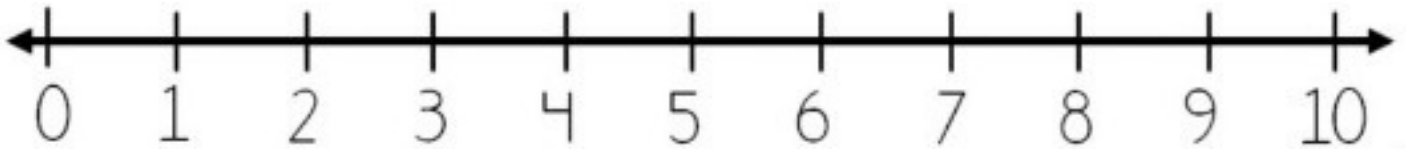
¿Cómo jugamos?

En **equipos** de 2 personas. Se pueden formar varios equipos.

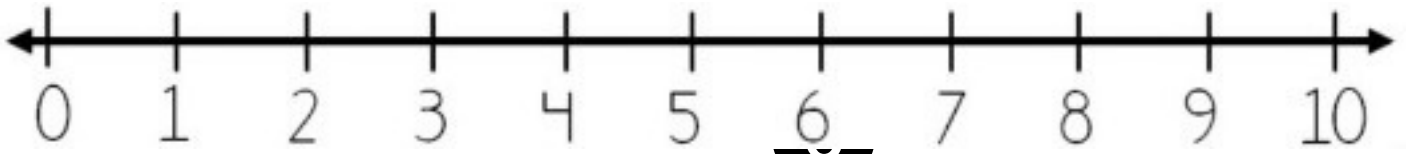
1. **Armamos** una pirámide de 10 latas.
2. Los equipos **hacen turnos** para tumbar las latas.
3. **El equipo** que tumbó las latas primero **se fija** en los números de las latas que ha tirado.
4. **El equipo suma** los números de las latas que ha tumbado.
5. **El equipo marca** con un plumón o tiza el número en la recta numérica con el resultado obtenido.
6. **Volvemos** a armar la torre.
7. **El otro equipo** hará lo mismos pasos con el resultado obtenido.
8. **Gana** un punto el que gana la ronda.
9. **Juegan** dos veces más.



Anexo 3:

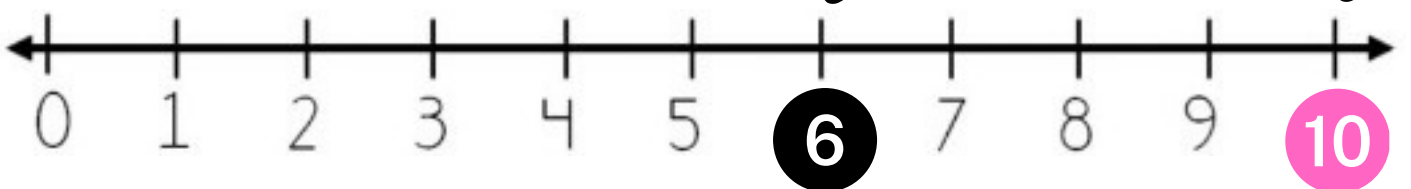


Equipo 1



Equipo 1

Equipo 2



Anexo 4:

