

ANEXOS

Sesión N° 19 - Matemática

“RESOLVEMOS PROBLEMAS CON SUMAS REAGRUPANDO”




¡Sumando 10!!

¿Qué necesitas para jugar?

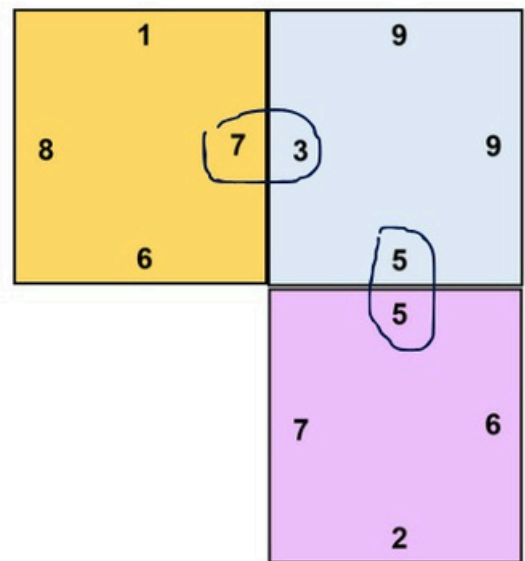
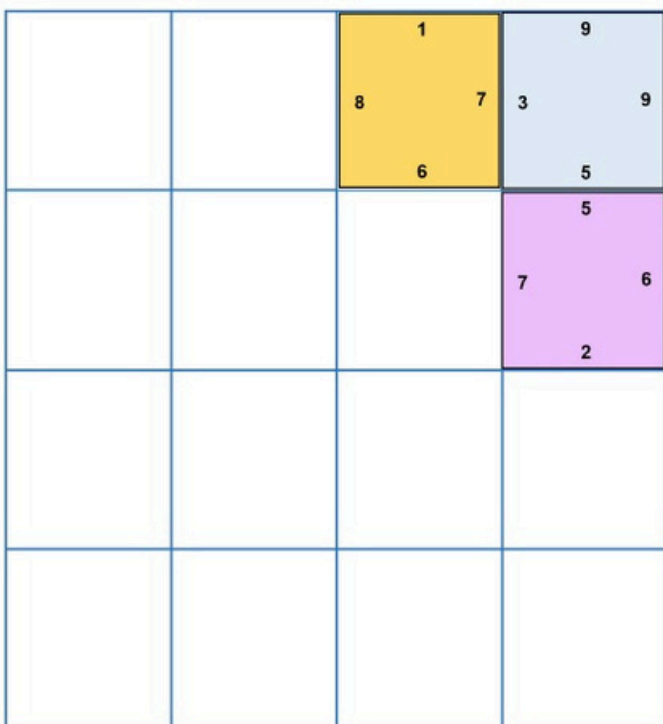
Tarjetas del juego

Base de papel



¿Cómo jugamos?


1. En equipo, ordenamos las tarjetas encima de la base de papel.
2. Cada vez que juntamos las tarjetas, sus lados deben sumar siempre 10.
3. Gana el equipo que termina primero.



¡Sumando 20!!

¿Qué necesitas para jugar?

Tarjetas del juego
Base de papel



¿Cómo jugamos?

1. En equipo, ordenamos las tarjetas encima de la base de papel.
2. Cada vez que juntamos las tarjetas, sus lados deben sumar siempre 20.
3. Gana el equipo que termina primero.

| | | | |
|--|--|----------------|--------------------------|
| | | 14 11 11 | 15 4 16 10 5 |
| | | | 10 16 6 6 |
| | | | |
| | | | |



| | | |
|----------------|----------|---------------|
| 14 11 11 | 4 16 | 15 5 10 |
| | 10 10 | 16 6 6 |

¡Tarjetas Sumando 10!

| | | |
|---|---|---|
| | 5 | |
| 1 | | 2 |
| | 3 | |

| | | |
|---|---|---|
| | 1 | |
| 8 | | 7 |
| | 6 | |

| | | |
|---|---|---|
| | 9 | |
| 3 | | 9 |
| | 5 | |

| | | |
|---|---|---|
| | 3 | |
| 1 | | 2 |
| | 7 | |

| | | |
|---|---|---|
| | 7 | |
| 2 | | 1 |
| | 4 | |

| | | |
|---|---|---|
| | 4 | |
| 9 | | 3 |
| | 8 | |

| | | |
|---|---|---|
| | 5 | |
| 7 | | 6 |
| | 2 | |

| | | |
|---|---|---|
| | 3 | |
| 4 | | 2 |
| | 7 | |

| | | |
|---|---|---|
| | 6 | |
| 1 | | 2 |
| | 1 | |

| | | |
|---|---|---|
| | 2 | |
| 8 | | 1 |
| | 6 | |

| | | |
|---|---|---|
| | 8 | |
| 9 | | 3 |
| | 5 | |

| | | |
|---|---|---|
| | 3 | |
| 7 | | 2 |
| | 4 | |

| | | |
|----|---|---|
| | 9 | |
| 10 | | 0 |
| | 3 | |

| | | |
|----|---|---|
| | 4 | |
| 10 | | 6 |
| | 4 | |

| | | |
|---|---|---|
| | 5 | |
| 4 | | 2 |
| | 8 | |

| | | |
|---|---|---|
| | 6 | |
| 8 | | 5 |
| | 7 | |

Anexo 4: Tarjetas Trayectoria 2

| | | | |
|------------------|------------------|------------------|------------------|
| 14 11 4 11 | 15 16 5 10 | 12 15 2 14 | 13 18 9 13 |
|------------------|------------------|------------------|------------------|

| | | | |
|----------------|-----------------|-----------------|------------------|
| 9 8 4 12 | 10 16 6 6 | 6 14 3 19 | 7 17 12 10 |
|----------------|-----------------|-----------------|------------------|

| | | | |
|----------------|------------------|-----------------|------------------|
| 8 9 7 17 | 14 13 7 12 | 1 13 18 7 | 10 2 11 11 |
|----------------|------------------|-----------------|------------------|

| | | | |
|----------------|----------------|------------------|----------------|
| 3 15 3 6 | 8 17 8 5 | 13 12 10 8 | 9 10 5 7 |
|----------------|----------------|------------------|----------------|

¿QUÉ HAREMOS HOY?


Hoy aprenderemos a representar y reagrupar números para resolver sumas de varias cantidades de forma más fácil y rápida.

Para ello, ¿qué pasos seguiremos?


1 **Jugaremos** "¡Sumando 10 0 20!".




2 **Escucharemos** atentamente el desafío que vamos a resolver.



3 **Resolveremos** el desafío utilizando diferentes formas de representar y reagrupar los números.



4 **Compartiremos** las estrategias que usamos para encontrar el resultado.




¡Ayudamos en la granja!

La familia Quispe tiene una granja con una variedad de animales, especialmente gallinas. En su granja, crían gallinas marrones y blancas que son excelentes ponedoras de huevos.


Todos los días, el padre se encarga de cuidar y organizar a las gallinas, asegurándose de que se alimenten adecuadamente.

Por su parte, la madre se dedica a recolectar los huevos, tanto los marrones como los blancos, mientras que sus hijos se encargan de venderlos.

Cada fin de semana, visitan la feria de su localidad para comercializar los huevos recolectados. ¡Ayúdalos a resolver algunos desafíos a los que se enfrentan!










Gallinas ponedoras
marrones







Gallinas ponedoras blancas

Desafío: Ayuda al papá a averiguar cuántas gallinas hay en la granja y a la mamá a saber cuántos huevos podrán llevar a la feria para vender.

Anexo 7: Trayectoria 1



Huevos recolectados



Anexo 8: Trayectoria 2

